

# Zahlenschritte



Name: \_\_\_\_\_

Hallo, ich bin der Taschenrechner Flinkfinger.  
 Ich nehme gerne Zahlen aus den Schülerheften weg.  
 Findest du raus, welche Zahlen ich geklaut habe?



1	2	3		5		7	
8		10			13		
20	19	18					

14			11				
			15	16			
			13				9

12							19
						1	0
			11	12			

Schwieriges Heft:

16	17						
					28	29	30
			41	42			

# Zahlensritte



Name: \_\_\_\_\_

Kinder, wir bauen nun einen ganz hohen Turm mit Steckwürfeln.  
Ihr müsst immer **2** neue Würfel dazu stecken.

Schreibt dann die Menge auf und zeichnet die Würfel.



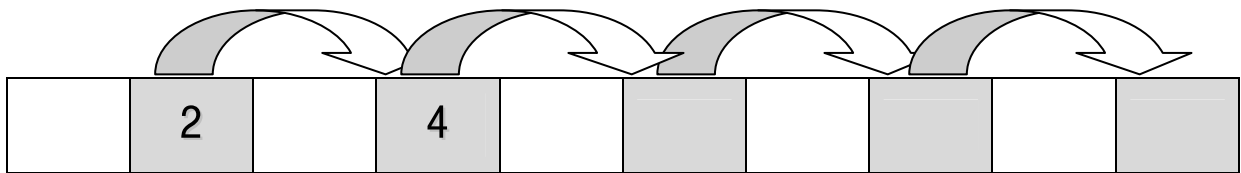
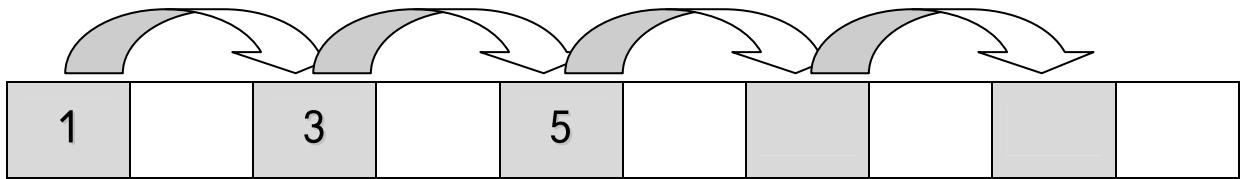
2	4	6							



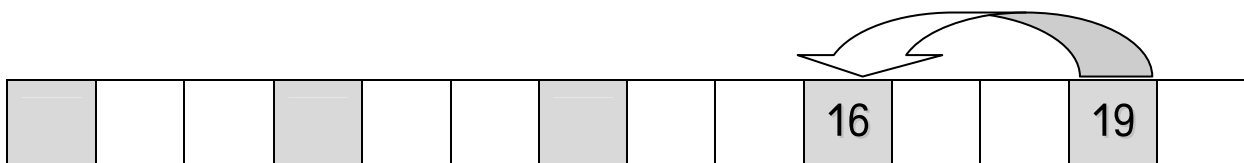
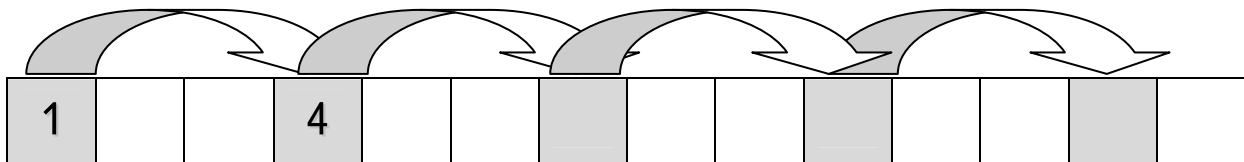
Kannst du weit springen?  
 Auch beim Rechnen kann man springen.  
 Man kann von einer Zahl zur anderen springen.




Flinkefinger überspringt immer ein Feld:



Flinkefinger überspringt immer 2 Felder:



Flinkefinger überspringt immer 3 Felder:



# Zahlenschritte



Name: \_\_\_\_\_

Achtung! Flinkfinger kann auch in die Luft springen.  
Nun musst du dir die Felder selber vorstellen.



1	3	5							

2	4	6							
---	---	---	--	--	--	--	--	--	--

1	4	7				
---	---	---	--	--	--	--

20	18	16							
----	----	----	--	--	--	--	--	--	--

17	15	13					
----	----	----	--	--	--	--	--

20	17	14				
----	----	----	--	--	--	--



Jetzt springen wir auf dem Hunderterfeld. Starte immer bei der 1.

Immer 1 Feld: blauer Punkt

Immer 2 Felder: roter Punkt

Immer 5 Felder: gelber Punkt

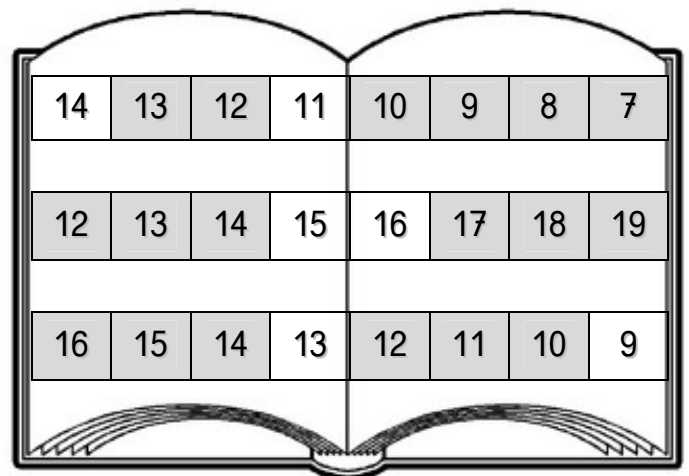
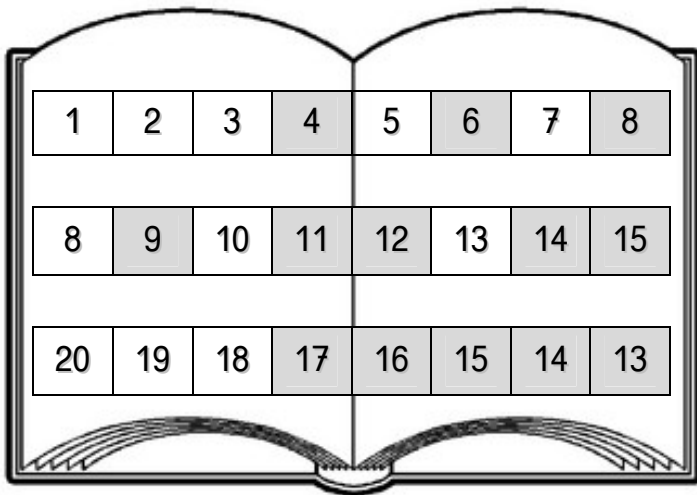
Immer 10 Felder: oranger Punkt

Welche Zahlen sind am buntesten?

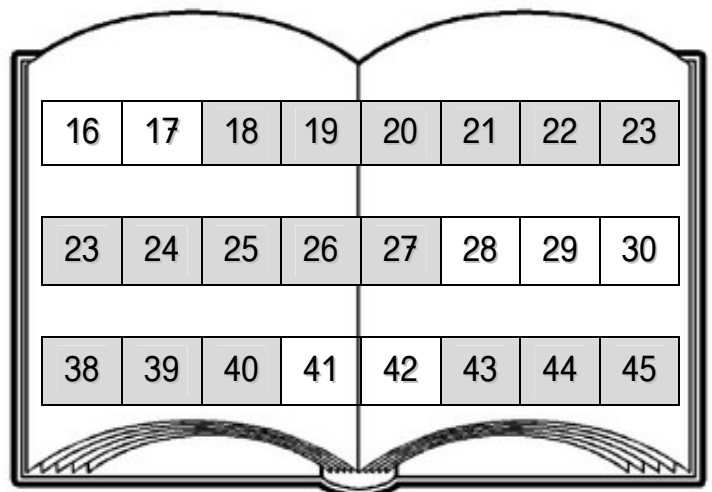
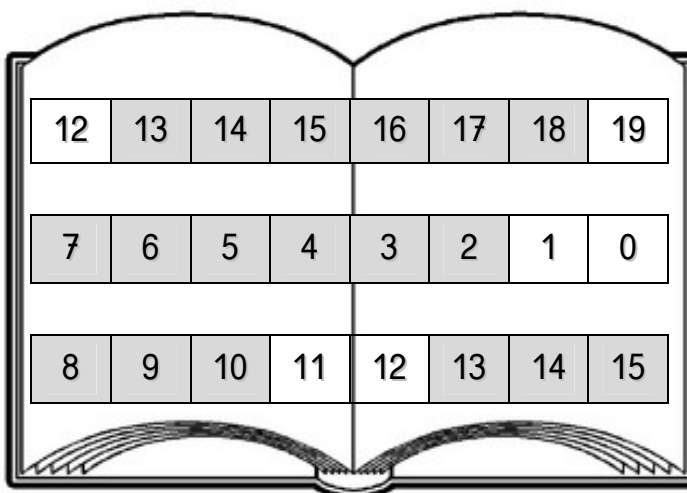
1	2	3	4	5	6	7	8	9	10
11	12	13	14	15	16	17	18	19	20
21	22	23	24	25	26	27	28	29	30
31	32	33	34	35	36	37	38	39	40
41	42	43	44	45	46	47	48	49	50
51	52	53	54	55	56	57	58	59	60
61	62	63	64	65	66	67	68	69	70
71	72	73	74	75	76	77	78	79	80
81	82	83	84	85	86	87	88	89	90
91	92	93	94	95	96	97	98	99	100



Hallo, ich bin der Taschenrechner Flinkfinger.  
 Ich nehme gerne Zahlen aus den Schülerheften weg.  
 Findest du raus, welche Zahlen ich geklaut habe?











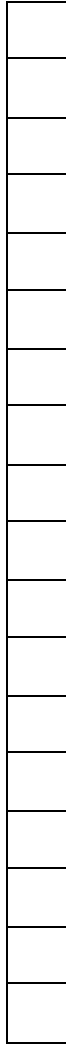

Schwieriges Heft:



Kinder, wir bauen nun einen ganz hohen Turm mit Steckwürfel.  
Ihr müsst immer **2** neue Würfel dazu stecken.

Schreibt dann die Menge auf und zeichnet die Würfel.



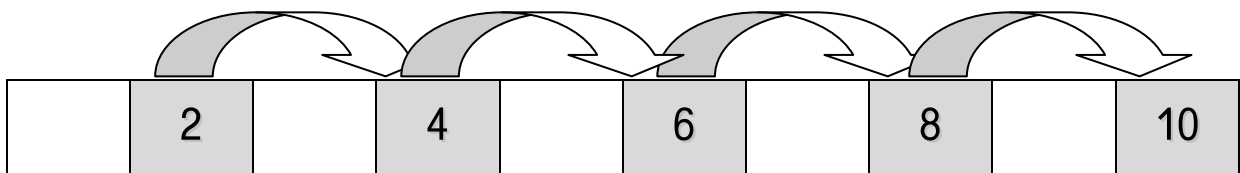
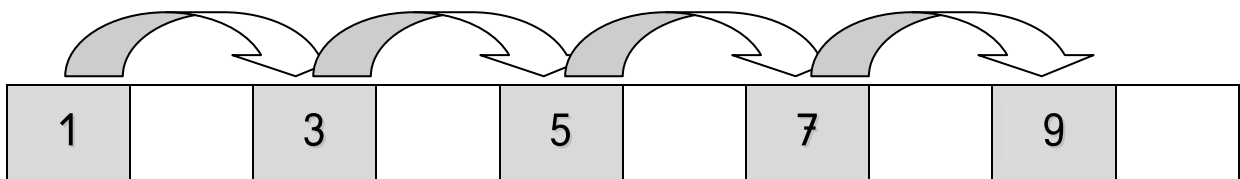
2	4	6	8	10	12	14	16	18	20
									



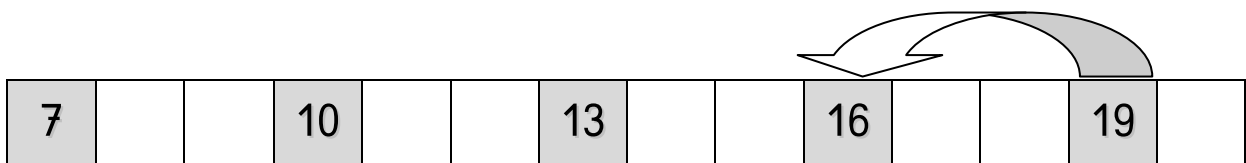
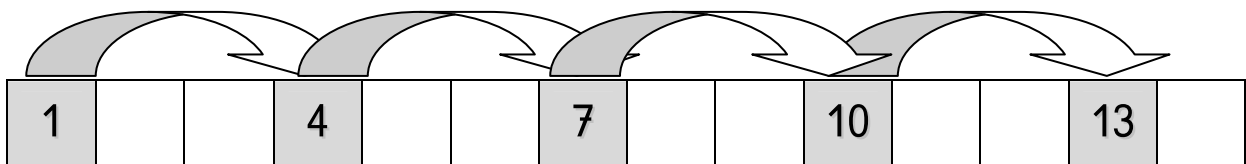
Kannst du weit springen?  
 Auch beim Rechnen kann man springen.  
 Man kann von einer Zahl zur anderen springen.



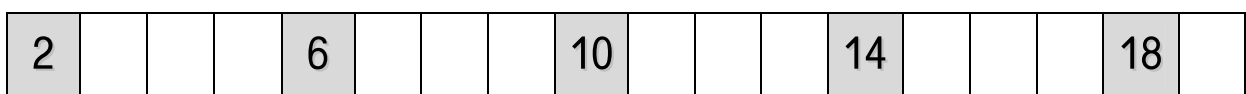
Flinkefinger überspringt immer ein Feld:



Flinkefinger überspringt immer 2 Felder:



Flinkefinger überspringt immer 3 Felder:





Achtung! Flinkfinger kann auch in die Luft springen.  
Nun musst du dir die Felder selber vorstellen.

